

**Промежуточная аттестация по географии 6 класс.  
Пояснительная записка к годовой тестовой работе  
по географии за курс 6 класса**

Тестовые задания для проведения промежуточной аттестации по географии за курс географии 6 класса составлены по авторской программе Е.М. Домогацких с учетом Федерального компонента образовательного стандарта основного общего образования по географии в 6 классе. Решение данных тестовых заданий позволяет определить уровень усвоения учебного материала по географии за курс 6 класса по темам:

1. Земля как планета.
  2. Географическая карта.
  3. Литосфера.
  4. Атмосфера.
  5. Гидросфера.
- А также :
1. Степень усвоения географической номенклатуры.
  2. Описание географических объектов.

**Часть 1** содержит 14 заданий с выбором одного верного ответа из четырех базового уровня сложности. 1 балл за каждый правильный ответ.

**Часть 2** содержит 10 заданий на установление соответствия, определение географических объектов по координатам, на работу с картой, задания с кратким ответом. Задания повышенного уровня. Максимальное количество баллов- 20.

15 - 20 - 2 балла при отсутствии ошибок, 1 балл – 1 ошибка, 0 баллов – 2 и более ошибок.

21-24 – 2 балла при отсутствии ошибок, 0 баллов, если допущены ошибки.

Максимальное количество баллов за тестовую работу – 34

На выполнение теста рекомендуется выделить 45 минут.

**Критерии оценивания:**

«5» 90% - 100% (31 – 34 баллов)



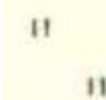

«4» 65% - 89% (22 - 30 баллов)

«3» 45% - 64% (15 – 21 баллов)

## Ответы:

### 1 вариант

### 2 вариант

Вопрос	Вариант ответа	Вопрос	Вариант ответа
1	В	1	Б
2	Б	2	Г
3	А	3	В
4	Б	4	А
5	Г	5	Г
6	В	6	В
7	Б	7	А
8	В	8	Б
9	Г	9	В
10	В	10	Г
11	А	11	В
12	В	12	А
13	Б	13	Г
14	А	14	Б
15	А ← Б ← В ← Г → Б	15	А → Б ← В ← Г → А
16	ВАБ	16	ВАБ
17	влк. Ключевская Сопка	17	влк. Килиманджаро
18	кустарник  болото 	18	луг  овраг 
19	понижается на 1 мм	19	на 1 км 6°с
20	а) летний муссон б) зимний муссон	20	а) дневной бриз б) ночной бриз
21	380 м	21	780 м
22	Восток	22	Юго-восток
23	14°	23	+ 15°С
24	- 12°С	24	- 19°С

**Годовая тестовая работа по географии 6 класс**  
**1 вариант**

**Часть 1.**

1. Какой азимут имеет направление северо-восток?  
а) 360 градусов б) 90 градусов в) 45 градусов г) 225 градусов
2. Из предложенных утверждений выберите **неверное**.  
а) географическая широта может быть северной или южной, а долгота - западной или восточной  
б) значения географической широты могут изменяться в пределах от 0° до 180°  
в) на глобусе параллели имеют форму окружностей, а меридианы - форму дуг окружностей  
г) параллели на глобусе и на географических картах определяют направление «запад — восток», а меридианы — «север — юг»  
д) географическая широта точек земной поверхности, находящихся на экваторе, равна 0°
3. Какая из перечисленных горных пород относится к группе осадочных пород обломочного происхождения?  
а) глина б) гранит в) мел г) базальт
4. В каком слое атмосферы происходит изменение погоды?  
а) в озоновом б) в тропосфере в) в стратосфере г) в мезосфере
5. Как называется водная оболочка Земли?  
а) биосфера б) атмосфера в) литосфера г) гидросфера
6. Верхний, тонкий и твердый слой Земли:  
а) ядро б) мантия в) земная кора г) литосфера
7. Какое из данных морей относится к Атлантическому океану?  
а) Охотское б) Средиземное в) Японское г) Красное
8. Какое озеро является бессточным?  
а) Байкал б) Виктория в) Чад г) Мичиган
9. Главная река со всеми притоками образует:  
а) водораздел б) речную долину в) бассейн реки г) речную систему
10. Самые большие разрушения получают здания, находящиеся при землетрясении:  
а) в зоне землетрясения  
б) на окраине зоны землетрясения  
в) в эпицентре землетрясения  
г) в очаге землетрясения
11. Как называется участок суши с абсолютной высотой до 200 метров?  
а) низменность б) возвышенность в) плоскогорье г) гора
12. Превышение точки земной поверхности над уровнем моря называется:  
а) относительной высотой б) постоянной высотой  
в) абсолютной высотой г) настоящей высотой
13. Река Янцзы относится к бассейну:  
а) Атлантического океана б) Северного Ледовитого океана  
в) Индийского океана г) Тихого океана
14. В какое время летом, при ясной погоде, наблюдается наибольшая температура воздуха:  
а) после полудня б) до полудня в) в полдень

**Часть 2.**

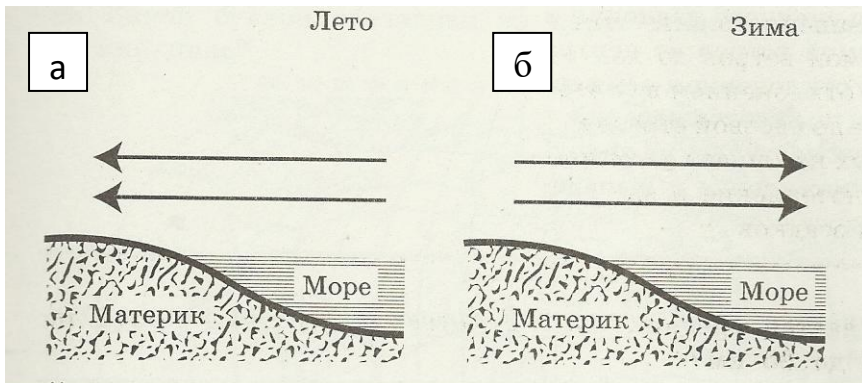
15. Покажите стрелками направление ветра между точками А и Б, укажите в каком случае ветер самый сильный:  
а) 758 мм.рт.ст и 762 мм.рт.ст  
б) 740 мм.рт.ст и 750 мм.рт.ст  
в) 759 мм.рт.ст и 760 мм.рт.ст  
г) 755 мм.рт.ст и 752 мм.рт.ст
16. Найдите соответствие:  
1) прибор для определения температуры а) барометр  
2) прибор для определения атмосферного давления б) флюгер  
3) прибор для определения направления ветра в) термометр
17. Определите географический объект, координаты которого 56° с.ш. 161° в.д.

18. Нарисуйте условные знаки плана местности – кустарник и болото.

19. Заполните пропуски.

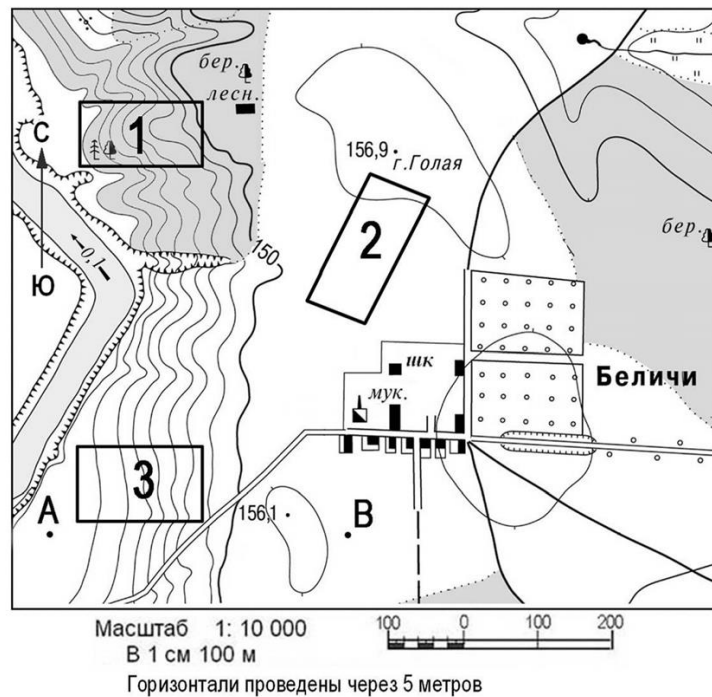
При подъёме в горы атмосферное давление \_\_\_\_\_ каждые 10,5 м на \_\_\_\_\_ мм рт.ст

20. Направление каких ветров показано на схеме?



21. Определите по карте расстояние от точки А до точки В. Полученный результат округлите до десятков метров.

22. Определите по карте направление от точки А до точки В.



23. Если в течении суток замеры температуры составили утром +7°C, днём +21°C, вечером +12°C, то суточная амплитуда равна \_\_\_\_\_.

24. Какова температура воздуха за бортом самолета, если он летит на высоте 6 км, а у земной поверхности температура составляет + 24°C?

**Годовая тестовая работа по географии 6 класс**  
**2 вариант**

**Часть 1.**

1. Какой азимут имеет направление юго-запад?  
а) 360 градусов    б) 225 градусов    в) 45 градусов    г) 90 градусов
2. Выберите верное утверждение.  
а) географическая долгота и широта измеряется в километрах  
б) параллели на глобусе и географических картах определяют направления «север—юг», а меридианы— «запад—восток»  
в) на глобусе параллели имеют дуг окружностей, а меридианы - форму окружностей  
г) для определения географических координат северного и южного полюса достаточно указать их географическую широту  
д) точки земной поверхности, находящиеся между экватором и северным полюсом, имеют южную широту
3. Какая из перечисленных горных пород относится к группе осадочных пород органического происхождения?  
а) глина    б) гранит    в) мел    г) базальт
4. Как называется воздушная оболочка Земли?  
а) атмосфера    б) биосфера    в) литосфера    г) гидросфера
5. Центральная часть земного шара:  
а) литосфера    б) мантия    в) земная кора    г) ядро
6. Какое из данных морей относится к Тихому океану?  
а) Каспийское    б) Чёрное    в) Берингово    г) Саргассово
7. Какое озеро является сточным?  
а) Байкал    б) Виктория    в) Чад    г) Аральское
8. Какова главная причина образования ветра?  
а) атмосферное давление    б) разница в атмосферном давлении  
в) температура воздуха    г) угол падения солнечных лучей.
9. Участок земной поверхности, с которого вся вода стекает в одну реку называется:  
а) водораздел    б) речная система    в) бассейн реки    г) долина реки
10. Как называется место в глубине земли, где происходят толчки приземлетрясения?  
а) зона землетрясения    б) окраина зоны землетрясения  
в) эпицентр землетрясения    г) очаг землетрясения
11. Как называется участок суши с абсолютной высотой от 500 до 1000 метров?  
а) низменность    б) возвышенность    в) плоскогорье    г) гора
12. Как называется превышение по отвесу одной точки земной поверхности над другой?  
а) относительной высотой    б) постоянной высотой  
в) абсолютной высотой    г) настоящей высотой
13. Река Миссисипи относится к бассейну  
а) Атлантического океана    б) Индийского океана  
в) Тихого океана    г) Северного Ледовитого океана
14. В какое время летом при ясной погоде наблюдается наименьшая температура воздуха?  
а) в полночь    б) перед восходом солнца    в) после захода солнца

**Часть 2.**

15. Покажите стрелками направление ветра между точками А и Б, укажите в каком случае ветер самый сильный:  
а) 761 мм.рт.ст и 752 мм.рт.ст  
б) 745 мм.рт.ст и 750 мм.рт.ст  
в) 758 мм.рт.ст и 760 мм.рт.ст  
г) 762 мм.рт.ст и 758 мм.рт.ст

16. Найдите соответствие:

- |   |              |
|---|--------------|
| 1) прибор для определения направления ветра     | а) барометр  |
| 2) прибор для определения атмосферного давления | б) осадкомер |
| 3) прибор для определения количества осадков    | в) флюгер    |

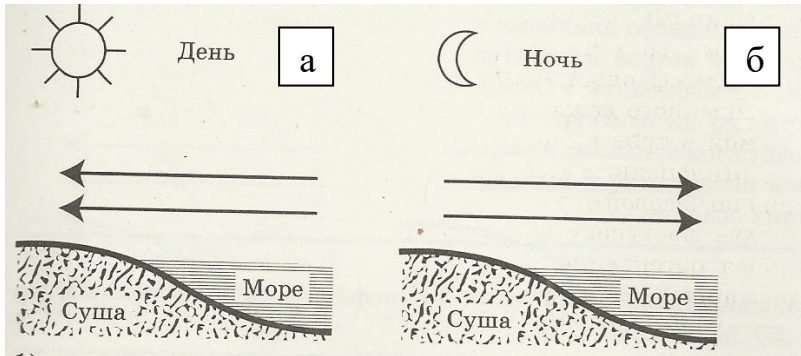
17. Определите географический объект, координаты которого  $3^{\circ}$  ю.ш.  $38^{\circ}$  в.д.

18. Нарисуйте условные знаки плана местности – луг и овраг.

19. Заполните пропуски:

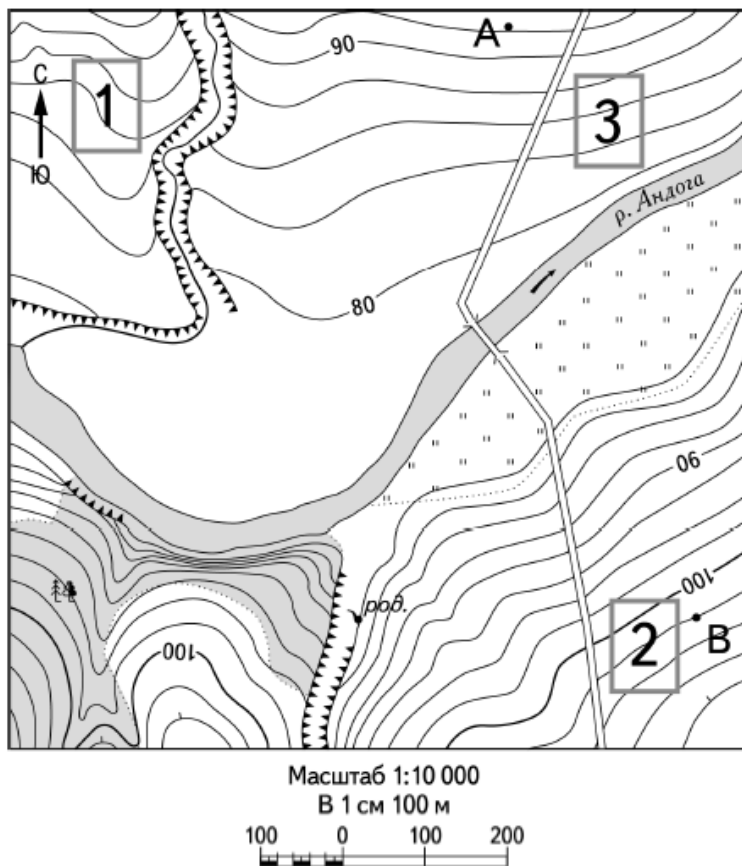
При подъёме вверх температура воздуха уменьшается на каждый \_\_\_\_\_ км на \_\_\_\_\_  $^{\circ}\text{C}$ .

20. Направления каких ветров показано на схеме?



21. Определите по карте расстояние на местности от точки А до точки В. Полученный результат округлите до десятков метров.

22. Определите по карте в каком направлении от точки А находится точка В.



23. Если в течении суток замеры температуры составили утром  $+9^{\circ}\text{C}$ , днём  $+24^{\circ}\text{C}$ , вечером  $+12^{\circ}\text{C}$ , то средняя температура суток равна \_\_\_\_\_.

24. Какова температура воздуха за бортом самолета, если он летит на высоте 7 км, а у земной поверхности температура составляет  $+23^{\circ}\text{C}$ ?